

GENEL YETENEK

1- “ Aynı gibiydi. Suçunu bildiği için mahcup bir şekilde bana bakıyordu.”

Yukarıdaki cümlede boş bırakılan yere aşağıdaki deyimlerden hangisi getirilmelidir?

- A) Süt dökmüş kedi
- B) Etekleri zil çalıyor
- C) Gözü yüksekte
- D) Keçileri kaçırmış
- E) Kendini beğenmiş

2- **Aşağıdaki cümlelerin hangisinde varlığın özelliğini belirten bir sözcük yoktur?**

- A) Sıcak bir yaz gecesi dolaşmaya çıktı.
- B) Islak elbiseleri yüzünden titriyordu.
- C) Kısa saç sana çok yakışmış.
- D) Kalemle oynuyor, dersi dinlemiyordu.
- E) Dere kenarında yosunlu taşlar vardı.

3- **Aşağıdaki cümlelerin hangisinde “özenme” anlamı vardır?**

- A) Mavi kazağı almamalıydım.
- B) Keşke, benimde böyle bir evim olsa.
- C) Bu yaz köye gideceğim.
- D) Galiba kızımın kıyafeti küçük oldu.
- E) Yarın toplantıya katılmalıyım.

4-**Aşağıdaki cümlelerin hangisinde karşılaştırma vardır?**

- A) Gün batımını izledik.
- B) Bir daha buralara uğrama.
- C) Çantada daha neler var?
- D) Ödevlerimi daha bitiremedim.
- E) Hepimizden daha başarılıydı.

5- **Aşağıdaki cümlelerin hangisinde yazım yanlışlığı yapılmıştır?**

- A) Aksam da biraz kitap okuyacağım.
- B) İlkbahar da tüm doğa canlanır.
- C) Durakta otobüs bekleyeceğim.
- D) Sinemayı da tiyatroyu da severim.
- E) Ahmet de bugün okula gelmedi.

6- Atalarımız; () Fakirlik ayıp değil () tembellik ayıptır() () demişler()

Yukarıdaki cümlede ayraçların içine, sırasıyla hangi noktalama işaretleri konulmalıdır?

- A) (!) (.) (.) (?) (.)
- B) (“) (,) (.) (”) (.)
- C) (“) (!) (.) (”) (.)
- D) (-) (:) (.) (-) (.)
- E) (-) (,) (.) (-) (.)

7- "Yazın, bahçeden gelen çocuk sesleri hanımeli kokusuna karışırken evimin serinliğinde çiçeklerime bakarken yalnızlığımı unutmaya çalışırım."

Paragrafta hangi duyumuzla ilgili bir ayrıntı yoktur?

- A. İşitme
- B. Dokunma
- C. Koklama
- D. Görme
- E. Tatma

8- "Atatürk son derece ileri görüşlü bir devlet adamıydı. Özel hayatında da titiz ve düzenliydi. O elli yedi yıl yaşadı. Ancak çağrıldığı toplantılara hep vaktinde gitti. Konuşmaları için önceden hazırlandı."

Bu paragrafta bulunan nesnel içerikli cümle baştan kaçınıcı cümledir.

- A) 1. cümle
- B) 2. cümle
- C) 3. cümle
- D) 4. cümle
- E) 5.cümle

9- Aşağıdaki tümcelerin hangisinde bir varlığın yerini almış olan bir kelime vardır?

- A) O adam bu işi çok güzel yapıyor.
- B) Bazı insanlar çevreyi kirletiyor.
- C) Öğretmen bir kaç soru daha çözelim dedi.
- D) Saçları olmadığı için ona Keloğlan diyorlardı.
- E) Bu elbise çok güzel!

10- Aşağıdakilerin hangisinde anlatım bozukluğu vardır?

- A) Ülkemize yararlı insan olalım.
- B) Yetkililer hâlâ bir açıklama yapmadı.
- C) Büyüklerimize saygı gösterelim.
- D) Çarşıdan bir kilo kırmızı, al elma alır mısınız?
- E) Çocuk, az kalsın merdivenden düşecekti.

11- “Türk insanı kendisine yapılan iyiliği ve kötülüğü ömrü boyunca unutmaz.” cümlesinde aşağıdaki öğelerden hangisi yoktur?

- A) Dolaylı Tümleç
- B) Nesne
- C) Özne
- D) Zarf Tümleci
- E) Yüklem

12- Aşağıdaki atasözlerinin hangisinde altı çizili sözcük yapısı bakımından farklıdır?

- A)Evlinin bir evi var,evsizin bin evi var.
- B)Dünyada tasasız baş bostan korkuluğunda bulunur.
- C)Dilenci bir olsa şekerle beslenir.
- D)İyilik eden iyilik bulur.
- E) Bebek yatağında mışıl mışıl uyuyor.

13- Aşağıdaki atasözlerinin hangisinde *sıfat tamlaması* vardır?

- A) Keskin sirke küpüne zarar.
- B) Önce düşün sonra söyle.
- C) Bağ babadan, zeytin dededen kalmalı.
- D) Allah bilir ama kul da sezer.
- E) Emek olmadan yemek olmaz.

14- Aşağıdaki cümlelerin hangisinde yazım yanlışı yoktur?

- A) Okullar 18 eylül 2017 tarihinde açılacak.
- B) Kardeşimle saat 12:00’da buluşacağız.
- C) Tribünde seksen üç bin kişi vardı.
- D) Demekki sen de bu işin içindesin.
- E) Komşumuz tatile giderken kedisi Tirmık’ı bize bıraktı.

15- Aşağıdaki cümlelerin hangisinde büyük harflerin yazımıyla ilgili bir yanlışlık yapılmıştır?

- A) Bu sene Doğu Anadolu’ya ilk kar düştü.
- B) Vatan Yahut Silistre kitabı Namık Kemal’e aittir.
- C) Kaymakam Erol Bey yeni görev yerine gitti.
- D) Ayşe teyzemin keki çok güzel.
- E) Bu telefona Dünyanın parasını verdi.

16-

$$\begin{array}{r} 2 \\ 3 \end{array} \quad \begin{array}{r} 4 \\ 3 \end{array} \\ \hline : \quad \hline \begin{array}{r} 3 \\ 2 \end{array} \quad 3$$

İşleminin sonucu kaçtır?

- A) 1
- B) 2
- C) 3
- D) 4
- E) 5

17- $3,52 + 1,45 - 2,08$ işleminin sonucu kaçtır?

- A) 2,79 B) 2,80 C) 2,85 D) 2,89 E) 3,09

18- $(48 \div 12) \cdot 3 + 20$ işleminin sonucu kaçtır?

- A) 25 B) 32 C) 45 D) 58 E) 92

19- $2^4 + 5^2 + 7^0 - 1^6$ işleminin sonucu kaçtır?

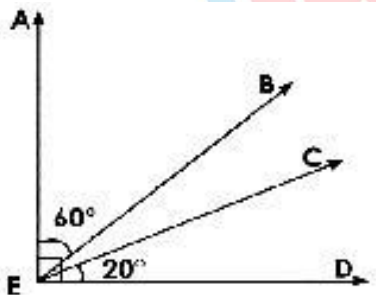
- A) 36 B) 41 C) 45 D) 53 E) 51

20-

$\frac{\sqrt{16} + \sqrt{0} + \sqrt{25}}{\sqrt{4} + \sqrt{1}}$ işleminin sonucu kaçtır?

- A) 2 B) 6 C) 3 D) 9 E) 8

21-



Yukarıdaki şekle göre AE doğrusu ED doğrusuna diktir. Buna göre BEC açısı kaç derecedir?

- A) 100 B) 80 C) 30 D) 20 E) 10

22- Bir okulda 285 kız ve kızlardan 56 fazla erkek vardır. Bu okulun mevcudu kaçtır?

- A) 616
B) 626
C) 636
D) 646
E) 606

23- Murathan'ın 68, Necati'nin 46 fındığı vardır. Murathan, Necati'ye kaç fındık verirse fındıkları eşit olur?

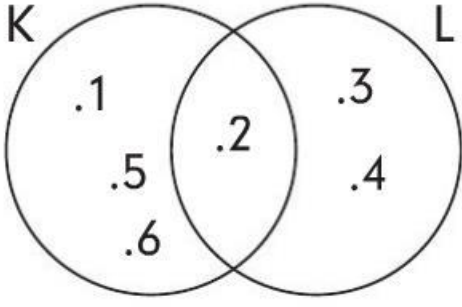
- A) 9 B) 10 C) 11 D) 12 E) 13

24- İki basamaklı ve rakamları farklı en küçük tek sayının 9 katının sayı değeri toplamı kaçtır ?

- A) 9 B) 12 C) 15 D) 18 E) 20

25- Ali ve babasının yaşları toplamı 63'tür. Babasının yaşı, Ali'nin yaşının 3 katının 7 fazlası olduğuna göre Ali kaç yaşındadır?

- A) 12 B) 14 C) 16 D) 18 E) 20



Yukarıdaki Venn şemasına göre $K \cup L$ kümesinin eleman sayısı kaçtır?

- A) 3 B) 4 C) 5 D) 6 E) 2

27-


$$|6-2| + |2-5| - |1+4|$$

işleminin sonucu kaçtır?

- A) -2 B) 2 C) 5 D) 7 E) 12

28-


Aşağıdaki şekilde 1. karenin alanı 81 birim kare, 2. karenin alanı 25 birim karedir. Buna göre 3. karenin alanı kaç birim karedir?



- A) 12 B) 14 C) 16 D) 18 E) 20

29-

27m

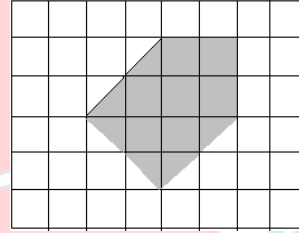


34m

Yukarıdaki dikdörtgen şeklindeki arsanın etrafına 5 sıra tel çekmek istiyorum. Kaç metre tel gerekmektedir?

- A) 601 B) 106 C) 610
D) 810 E) 305

30-



Aşağıdaki taralı alan kaç birim kareden oluşmuştur?

- A) 8 B) 9 C) 10 D) 11 E) 12